

Limites et dérivées de fonctions trigonométriques

Révision fonctions trigonométriques

Question 1

Localiser les points correspondants aux angles suivants sur un cercle.

- | | | |
|---------------------|---------------------|---------------------|
| a) $\frac{\pi}{6}$ | c) $\frac{8\pi}{6}$ | e) $\frac{3\pi}{4}$ |
| b) $\frac{5\pi}{6}$ | d) $\frac{\pi}{4}$ | f) $\frac{7\pi}{4}$ |

Question 2

Évaluer et simplifier les expressions suivantes.

- | | | |
|--------------------------------------|--|---|
| a) $\sin\left(\frac{\pi}{2}\right)$ | f) $\cot\left(\frac{-2\pi}{3}\right)$ | k) $\sec\left(\frac{4\pi}{3}\right)$ |
| b) $\cos\left(\frac{7\pi}{6}\right)$ | g) $\sin\left(\frac{8\pi}{3}\right)$ | l) $\csc\left(-\frac{\pi}{4}\right)$ |
| c) $\tan\left(\frac{5\pi}{4}\right)$ | h) $\cos\left(-\frac{5\pi}{2}\right)$ | m) $\sin\left(\frac{\pi}{3} + \frac{\pi}{4}\right)$ |
| d) $\sec\left(\frac{5\pi}{3}\right)$ | i) $\tan\left(\frac{3\pi}{4}\right)$ | n) $\cos\left(\frac{\pi}{12}\right)$ |
| e) $\csc\left(\frac{3\pi}{4}\right)$ | j) $\cot\left(-\frac{11\pi}{6}\right)$ | |

Question 3

- a) Démontrer l'identité $\cos(\theta + \pi) = -\cos(\theta)$ à l'aide du cercle trigonométrique.
- b) Démontrer la même identité à l'aide des identités trigonométriques pour les sommes d'angles.

Question 4

Démontrer les identités trigonométriques suivantes.

- | | |
|--|--|
| a) $\sin(-x) = -\sin(x)$ | e) $\sin^2(\theta) = \frac{1 - \cos(2\theta)}{2}$ |
| b) $\cos(-x) = \cos(x)$ | f) $\sin(3\theta) = 3\sin(\theta) - 4\sin^3(\theta)$ |
| c) $\sin(x) = -\cos\left(x + \frac{\pi}{2}\right)$ | g) $\sin^4(\theta) - \cos^4(\theta) = \cos(2\theta)$ |
| d) $\cos(x) = \sin\left(x - \frac{\pi}{2}\right)$ | h) $\tan\left(\frac{\theta}{2}\right) + \frac{\sin(\theta)}{1 + \cos(\theta)}$ |

Limites

Question 5

Évaluer les limites suivantes

- | | |
|--|--|
| a) $\lim_{x \rightarrow \pi} \sin\left(\frac{x}{2}\right)$ | h) $\lim_{x \rightarrow \pi^-} \frac{1}{\tan(x)}$ |
| b) $\lim_{x \rightarrow \pi/3} \cos\left(\frac{x}{2}\right)$ | i) $\lim_{x \rightarrow \pi} \sec(x)$ |
| c) $\lim_{x \rightarrow \infty} \sin\left(\frac{3x}{2}\right)$ | j) $\lim_{x \rightarrow (\frac{\pi}{2})^-} \sec(x)$ |
| d) $\lim_{x \rightarrow \pi^+} \tan\left(\frac{x}{2}\right)$ | k) $\lim_{x \rightarrow -\frac{\pi}{8}} \tan(2x)$ |
| e) $\lim_{x \rightarrow -\pi^-} \tan\left(\frac{x}{2}\right)$ | l) $\lim_{x \rightarrow \frac{\pi}{3}} x \sin(x)$ |
| f) $\lim_{x \rightarrow (\frac{\pi}{2})^+} \frac{1}{\cos(x)}$ | m) $\lim_{x \rightarrow 0} \frac{\sin(-2x)\tan(4x)}{2x^2}$ |
| g) $\lim_{x \rightarrow 0^+} \frac{1}{\tan(x)}$ | n) $\lim_{x \rightarrow 0} \frac{\cos(x)}{x-1}$ |
| | o) $\lim_{x \rightarrow 0} \frac{\sec(x)\tan(x)}{x^2 \csc(x)}$ |

Dérivées

Question 6

Démontrer les formules de dérivation suivantes à l'aide des formules de dérivation des fonctions sinus et cosinus, des formules de dérivation pour les produits, sommes et quotients et des définitions des fonctions trigonométriques impliquées. (Autrement dit : dériver !)

- | | |
|----------------------------------|-----------------------------------|
| a) $(\cot(x))' = -\csc^2(x)$ | c) $(\csc(x))' = -\csc(x)\cot(x)$ |
| b) $(\sec(x))' = \sec(x)\tan(x)$ | |

Question 7

Calculer la dérivée des fonctions suivantes.

- | | |
|---|---|
| a) $y = \sin(5x)$ | f) $y = x^3 \sin(x)$ |
| b) $y = \cos(3x)$ | g) $y = \cos(3x) - 3\cos(x)$ |
| c) $y = \tan(x^2)$ | h) $y = \sec^2(x)$ |
| d) $y = \sec(x^2)$ | i) $y = \cot(3x)\csc(3x)$ |
| e) $y = \frac{\cos\left(\frac{x}{2}\right)}{3}$ | j) $y = \tan\left(\frac{x^2}{x+1}\right)$ |
| | k) $y = e^{\sin(3x)}$ |

Question 8

Trouver $\frac{dy}{dx}$ à l'aide de la dérivation implicite.

- | | |
|--------------------------------|------------------------------|
| a) $x \sin(x) + y \cos(y) = 0$ | c) $\sec(y^3) + y^2 = 3x^4$ |
| b) $\sin^4(xy) + xy = 0$ | d) $x \tan(e^y) + \ln y = 3$ |

Question 9

Calculer la dérivée des fonctions suivantes.

- a) $y = \cos(e^{-x})$ e) $y = \cos(\tan(x^2))$
 b) $y = \sin^3(x) + 3^{\sin(x)}$ f) $y = e^{x^3} \sec^2(2x)$
 c) $y = \ln(\sec(x) + \tan(x))$ g) $y = e^{\tan(x)} - \sin(x)\cos(x)$
 d) $y = \frac{1 + \csc(x^2)}{1 - \cot(x^2)}$ h) $y = \cot\left(\frac{x-1}{x-4}\right)$

Question 10Démontrer que $(\cos(x))' = -\sin(x)$

- a) En utilisant la définition de la dérivée.
 b) En utilisant l'identité $\cos(x) = \sqrt{1 - \sin^2(x)}$.
 c) En utilisant les identités $\sin(x) = \cos\left(\frac{\pi}{2} - x\right)$ et $\cos(x) = \sin\left(\frac{\pi}{2} - x\right)$.

Applications**Question 11**Trouver l'équation de la droite tangente à la courbe de $f(x) = \ln(\sin(x))$ au point $\left(\frac{\pi}{4}, f\left(\frac{\pi}{4}\right)\right)$.**Question 12**

Étudier la croissance et la concavité des fonctions suivantes et tracer leur graphique.

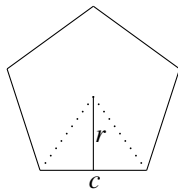
- a) $f(x) = \frac{x}{2} + \sin(x)$, où $x \in [0, 2\pi]$
 b) $f(x) = \sin x + \cos(x)$, où $x \in [0, 2\pi]$

Question 13Trouver les extremums absolus des fonctions données sur l'intervalle $[0, 2\pi]$.

- a) $f(x) = \cos^2(2x)$ b) $f(x) = 5 \sin(x) + 12 \cos(x)$

Question 14

Un polygone régulier à n côtés est une figure formée de n côtés et angles congrus (carré, pentagone régulier, hexagone régulier, etc.). Plus le nombre de côtés augmente, plus le polygone ressemble à un cercle. On peut dire qu'un cercle est la limite d'un polygone régulier lorsque le nombre n de côtés tend vers l'infini. Le rayon de ce cercle correspondra alors à l'apothème r illustrée dans la figure.



- a) Trouver l'aire d'un polygone régulier à n côtés en fonction de r et de c .
 b) Exprimer c en fonction de n (vous aurez besoin de trigonométrie ici).

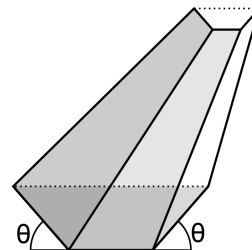
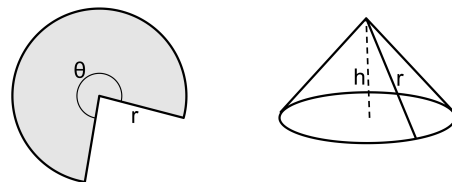
- c) Utiliser les deux résultats pour trouver une formule générale pour l'aire d'un polygone à n côtés en fonction uniquement de n et de r .
 d) En déduire la formule de l'aire d'un cercle (Remarquons que r est une constante dans le processus). Indice : il faut adapter le résultat $\lim_{x \rightarrow 0} \frac{\sin(x)}{x} = 1$ à la situation. *Vous venez de démontrer la formule de l'aire du cercle! Cette formule a été démontrée pour la première fois par Archimède (287 av. J.C. – 212 av. J.C.), mais sans utiliser le concept moderne de limite.*

Question 15

Déterminer quel est le rectangle de périmètre maximum pouvant être inscrit dans le cercle unité.

Question 16On lance un projectile avec un canon selon une vitesse initiale de v_0 m/s. Si on néglige la résistance de l'air, la portée (la distance horizontale parcourue par le projectile) est donnée par la fonction

$$R(\theta) = \frac{v_0^2 \sin(2\theta)}{g}$$

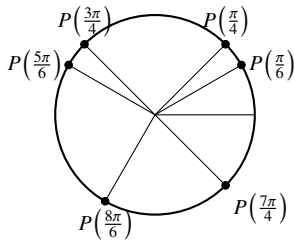
où $g = 9,8 \text{ m/s}^2$ et θ est l'angle d'inclinaison du canon. Selon quel angle doit-on placer le canon pour avoir une portée maximale ?**Question 17**Les côtés congrus d'un triangle isocèle mesurent 5 cm. Trouver l'angle θ entre ces deux côtés qui maximise l'aire du triangle.**Question 18**On fabrique une auge à partir d'une feuille de métal de 120 cm de largeur. De chaque côté, on replie une bande de 40 cm selon un angle θ . Quel doit être cet angle pour que l'auge puisse contenir un volume maximal ?**Question 19**On forme un cône en supprimant un secteur d'un disque de rayon égal r . Trouver la valeur de l'angle θ pour lequel le volume du cône obtenu est maximal.**Question 20**

Trouver les extremums locaux des fonctions suivantes.

- a) $y = \ln^2(2x^2 - x)$ b) $y = \sin^2 x + 2 \cos x$.

Solutions

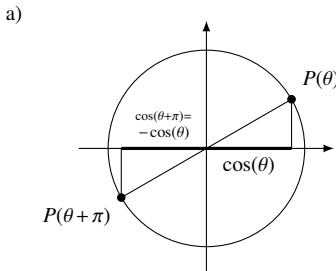
Question 1



Question 2

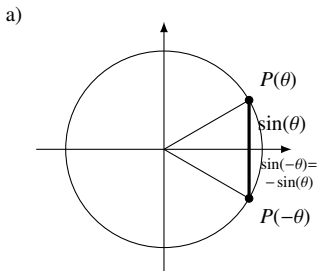
- a) 1 j) $\sqrt{3}$
 b) $-\sqrt{3}/2$ k) $-\sqrt{2}$
 c) 1 l) -2
 d) 2 m) $\sin \frac{\pi}{3} \cos \frac{\pi}{4} + \cos \frac{\pi}{3} \sin \frac{\pi}{4} = \frac{\sqrt{2} + \sqrt{6}}{4}$ ou utiliser le fait que $\pi/3 + \pi/4 = 7\pi/12$
 e) $\sqrt{2}$
 f) $1/\sqrt{3}$
 g) $\frac{\sqrt{3}}{2}$
 h) 0
 i) -1
 n) $\frac{\sqrt{2 + \sqrt{3}}}{2}$

Question 3



- a) $\cos(\theta + \pi) = \cos(\theta)\cos(\pi) - \sin(\theta)\sin(\pi) = \cos(\theta)(-1) - \sin(\theta)(0) = -\cos(\theta)$

Question 4



- b) Voir formulaire trigo.
 c) Voir formulaire trigo.
 d) Utiliser l'identité pour cosinus d'une somme d'angles et évaluer $\cos(\pi/2)$.

- e) Utilisez l'identité donnant le cosinus d'une somme de deux angles.
 f) Utilisez l'identité donnant le sinus d'une somme de deux angles à deux reprises.
 g) Laissez à l'étudiant-e.
 h) Laissez à l'étudiant-e.

Question 5

- a) 1 h) $-\infty$
 b) $\frac{\sqrt{3}}{2}$ i) -1
 c) $\frac{1}{2}$ j) ∞
 d) $-\infty$ k) -1
 e) $+\infty$ l) $\frac{\sqrt{3}\pi}{6}$
 f) $+\infty$ m) -4
 g) $+\infty$ n) -1
 o) 1

Question 6

a) $(\cot(x))' = \left(\frac{\cos(x)}{\sin(x)} \right)' = \frac{(-\sin(x)\sin(x) - \cos(x)\cos(x))}{\sin^2(x)} = \frac{-1}{\sin^2(x)} = -\csc^2(x)$

b) $(\sec(x))' = ((\cos(x))^{-1})' = -(\cos(x))^{-2}(-\sin(x)) = \frac{\sin(x)}{\cos(x)} \frac{1}{\cos(x)} = \sec(x)\tan(x)$

c) $(\csc(x))' = ((\sin(x))^{-1})' = -(\sin(x))^{-2}(\cos(x)) = -\frac{\cos(x)}{\sin(x)} \frac{1}{\sin(x)} = -\csc(x)\cot(x)$

Question 7

- a) $y' = 5\cos(5x)$
 b) $y' = -3\sin(3x)$
 c) $y = 2x\sec^2(x^2)$
 d) $y = 2x\sec(x^2)\tan(x^2)$
 e) $y = -\frac{1}{6}\sin\left(\frac{x}{2}\right)$
 f) $\frac{dy}{dx} = 3x^2\sin(x) + x^3\cos(x)$
 g) $\frac{dy}{dx} = 3\sin(x) - 3\sin(3x)$

- h) $\frac{dy}{dx} = 2\sec^2(x)\tan(x)$
 i) $\frac{dy}{dx} = 3\csc(3x)(1 - 2\csc^2(3x))$
 j) $\frac{dy}{dx} = \frac{(x^2 + 2x)\sec^2\left(\frac{x^2}{x+1}\right)}{(x+1)^2}$
 k) $\frac{dy}{dx} = 3e^{\sin(3x)}\cos(3x)$

Question 8

- a) $\frac{dy}{dx} = -\frac{\sin(x) + x\cos(x)}{\cos(y) - y\sin(y)}$
 b) $\frac{dy}{dx} = -\frac{y}{x}$
 c) $\frac{dy}{dx} = \frac{12x^3}{3y^2\sec(y^3)\tan(y^3) + 2y}$
 d) $\frac{dy}{dx} = \frac{-y\tan(e^y)}{xye^y\sec^2(e^y) + 1}$

Question 9

- a) $\frac{dy}{dx} = e^{-x}\sin e^{-x}$
 b) $\frac{dy}{dx} = \cos x(3\sin^2(x) + 3\sin(x)\ln(3))$
 c) $\frac{dy}{dx} = \sec(x)$
 d) $\frac{dy}{dx} = \frac{-2x\csc(x^2)(1 + \cot(x^2) + \csc(x^2))}{(1 - \cot(x^2))^2}$
 e) $\frac{dy}{dx} = -2x\sec^2(x^2)\sin(\tan(x^2))$
 f) $\frac{dy}{dx} = e^{x^3}\sec^2(2x)(3x^2 + 4\tan(2x))$
 g) $\frac{dy}{dx} = e^{\tan(x)}\sec^2(x) - \cos(2x)$
 h) $\frac{dy}{dx} = \frac{3}{x-4}\csc^2\left(\frac{x-1}{x-4}\right)$

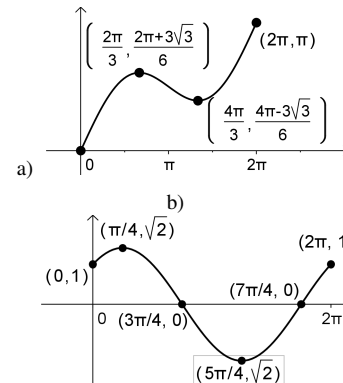
Question 10

- a) S'inspirer de la preuve de $(\sin(x))' = \cos(x)$; vous pouvez utiliser les deux lemmes démontrés en classe sans les redémontrer.
 b) Dériver directement.
 c) Fait en classe, tentez de le refaire par vous-même.

Question 11

$y = x + \ln \frac{\sqrt{2}}{2} - \frac{\pi}{4}$

Question 12



Question 13

- a) $\max=1$, atteint en $x \in \left\{0, \frac{\pi}{2}, \pi, \frac{3\pi}{2}, 2\pi\right\}$, $\min=0$, atteint en $x \in \left\{\frac{\pi}{4}, \frac{3\pi}{4}, \frac{5\pi}{4}, \frac{7\pi}{4}\right\}$

Question 14

- a) $A = \frac{nr}{2}$
 b) $c = 2r \tan\left(\frac{\pi}{n}\right)$
 c) Laissez à l'étudiant.
 d) Laissez à l'étudiant.

Question 15

Si on pose que x est la base d'un rectangle inscrit dans le cercle unité et y sa hauteur, le périmètre du rectangle est $p = 2x + 2y$.

La diagonale du rectangle étant le double du rayon unité, celle-ci est de longueur 2. De plus, si θ est l'angle formé par la diagonale du rectangle et sa base, alors $x = 2\cos(\theta)$ et $y = 2\sin(\theta)$.

On peut donc exprimer le périmètre p en fonction de l'angle θ :

$p(\theta) = 4\cos(\theta) + 4\sin(\theta)$.

L'angle θ doit être compris entre 0 et $\pi/2$.

En dérivant, on trouve que

$p'(\theta) = 4(-\sin(\theta) + \cos(\theta))$

$p'(\theta) = 0$ si

$-\sin(\theta) + \cos(\theta) = 0$

donc si

$\frac{\sin(\theta)}{\cos(\theta)} = \tan(\theta) = 1$,

ce qui est le cas quand $\theta = \pi/4$ ou $\theta = 3\pi/4$. On rejette cette seconde solution car elle n'est pas entre 0 et $\pi/4$.

On vérifie avec la dérivée seconde laquelle de cette solution donne un maximum de $p(\theta)$.

$p'(\theta) = 4(-\cos(\theta) - \sin(\theta))$ $p''\left(\frac{\pi}{4}\right) = 4\left(-\frac{\sqrt{2}}{2} - \frac{\sqrt{2}}{2}\right) < 0$

Comme la dérivée seconde $p''\left(\frac{\pi}{4}\right)$ est négative, le périmètre est maximum en $\pi/4$.

Question 16

$\theta = \frac{\pi}{4}$

Question 17

$\theta = \frac{\pi}{2}$

Question 18

$$\theta = \frac{\pi}{3} \text{ rad}$$

Question 19

$$\theta = \sqrt{2}\pi \text{ rad} \approx 254,56^\circ$$

Question 20

- a) Aucun max. local, min. local en $\left(-\frac{1}{2}, 0\right)$ et en $(1, 0)$.
- b) max. local en $(2k\pi, 2)$, min. local en $\left(\frac{\pi}{2} + 2k\pi, -2\right)$.