

- # 1 Le rayon d'un cercle augmente au rythme de 2cm/sec. À quel rythme la surface augmente-t-elle lorsque le rayon est de 15 cm ?

Les variables :

- rayon :  $r$  (cm) - temps :  $t$  (sec)

- aire :  $A$  et l'aire d'un cercle en fonction du rayon est de  $A(r) = \pi r^2$ .

Taux de variation :  $\frac{dA}{dt} = \frac{dA}{dr} \bullet \frac{dr}{dt}$

- Le taux de variation de l'aire en fonction du rayon est alors :  $A'(r) = \frac{dA}{dr} = \frac{d}{dr}(\pi r^2) = \pi 2r$ .

- Le taux de variation du rayon par rapport au temps est de :  $\frac{d}{dt}(r) = \frac{dr}{dt} = 2\text{cm/sec}$ .

- Alors le taux de variation de l'aire en fonction du temps est de:

$$\frac{dA(r(t))}{dt} = \frac{dA(r)}{dr} \bullet \frac{dr}{dt} = 2\pi r \bullet \frac{dr}{dt} = 2\pi r(2) = 4\pi r \text{ cm}^2/\text{sec}$$

Si le rayon est de 15 cm alors  $\frac{dA(r)}{dt} = 4\pi 15 \text{ cm}^2/\text{sec} = 60\pi \text{ cm}^2/\text{sec}$ .

- # 2 Une nappe de pétrole se répand circulairement sur l'océan. Le rayon de la nappe augmente de 0,05 km/jour. Calculez à quel taux augmente la surface de la nappe de pétrole lorsque celle-ci a un rayon de 1,2 km.

Les variables :

- rayon :  $r$  (km) - temps :  $t$  (jours)

- aire :  $A$  et l'aire d'un cercle en fonction du rayon est de  $A(r) = \pi r^2$ .

Taux de variation :  $\frac{dA}{dt} = \frac{dA}{dr} \bullet \frac{dr}{dt}$

$$\frac{dA(r(t))}{dt} = \frac{dA(r)}{dr} \bullet \frac{dr}{dt} = \frac{d(\pi r^2)}{dr} \bullet \frac{dr}{dt} = 2\pi r(0,05) = 0,1\pi r \text{ km}^2/\text{j}$$

Si le rayon est à 1,2 km nous aurons :  $\frac{dA}{dt} = 0,1\pi(1,2) = 0,12\pi \text{ km}^2/\text{j}$

- # 3 À quelle vitesse le niveau d'un liquide à l'intérieur d'un cylindre vertical baisse-t-il si nous le vidons au taux de 3m<sup>3</sup>/min ?

Les variables :

- rayon du cylindre :  $r$  (m) - temps :  $t$  (min) - hauteur du liquide :  $h$  (m)

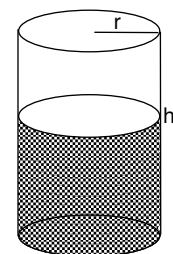
- volume :  $V$  et le volume d'un cylindre est de  $V = \pi r^2 h$ .

Taux de variation :  $\frac{dV}{dt} = \frac{dV}{dh} \bullet \frac{dh}{dt}$

$$\frac{dV}{dt} = 3 \text{ m}^3/\text{min}$$

- Sachant que le rayon est fixe, donc une constante :  $\frac{dV}{dh} = \frac{d(\pi r^2 h)}{dh} = \pi r^2$

- Nous cherchons  $\frac{dh}{dt}$ , alors  $\frac{dV}{dt} = \frac{dV}{dh} \bullet \frac{dh}{dt} = \pi r^2 \bullet \frac{dh}{dt} = 3 \text{ m}^3/\text{min}$  Donc :  $\frac{dh}{dt} = \frac{3}{\pi r^2} \text{ m/min}$ .



- # 4 On gonfle un ballon sphérique dont le volume en fonction du rayon est de  $V = \frac{4\pi r^3}{3}$ . Si le rayon augmente au rythme de 2 cm/sec, quel est le taux de variation du volume par rapport au temps ?

Les variables :

- rayon de la sphère:  $r$  (cm) - temps :  $t$  (sec)

- volume :  $V$  et le volume de la sphère en fonction du rayon est de  $V(r) = \frac{4\pi r^3}{3}$ .

Taux de variation :  $\frac{dV}{dt} = \frac{dV}{dr} \cdot \frac{dr}{dt}$

$$- \frac{dr}{dt} = 2 \text{ cm/sec} \quad - \frac{dV}{dr} = \frac{d\left(\frac{4\pi r^3}{3}\right)}{dr} = \frac{4}{3}\pi 3r^2 = 4\pi r^2$$

$$- \text{Donc } \frac{dV}{dt} = 4\pi r^2 \cdot 2 = 8\pi r^2 \text{ cm}^3/\text{sec}$$

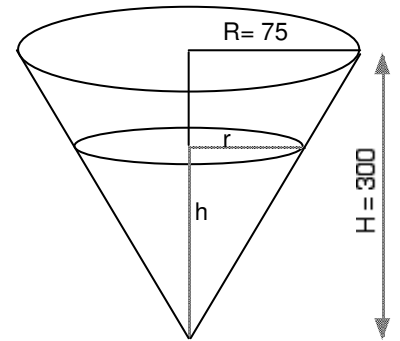
- # 5 On verse dans un cône droit un liquide au rythme de 6000 cm<sup>3</sup>/sec. Quel est le taux de variation du rayon par rapport au temps ? Quel est le taux de variation de la hauteur ?

Les variables :

- rayon du cône:  $R = 75$  cm - hauteur du cône :  $H = 300$  cm

- rayon du liquide :  $r$  (cm) - hauteur du liquide :  $h$  (cm)

- volume :  $V$  et le volume d'un cône est de  $V = \frac{\pi r^2 h}{3}$ .



Nous cherchons :  $\frac{dr}{dt}$  et  $\frac{dh}{dt}$ .

Taux de variation : a)  $\frac{dV}{dt} = \frac{dV}{dr} \cdot \frac{dr}{dt}$  et b)  $\frac{dV}{dt} = \frac{dV}{dh} \cdot \frac{dh}{dt}$

Dans cette situation les deux variables  $r$  et  $h$  sont liées.

Dans le triangle rectangle nous pouvons dire :  $\frac{r}{75} = \frac{h}{300}$ . Donc  $h = 4r$ .

a) Le volume devient alors :  $V = \frac{\pi r^2 h}{3} = \frac{\pi r^2 4r}{3} = \frac{4\pi}{3} r^3$  et  $V(r) = \frac{4\pi}{3} r^3$ .

$$- \frac{dV}{dt} = 6000 \text{ cm}^3/\text{sec} \quad - \frac{dV}{dr} = \frac{d\left(\frac{4\pi}{3} r^3\right)}{dr} = \frac{4\pi}{3} 3r^2 = 4\pi r^2$$

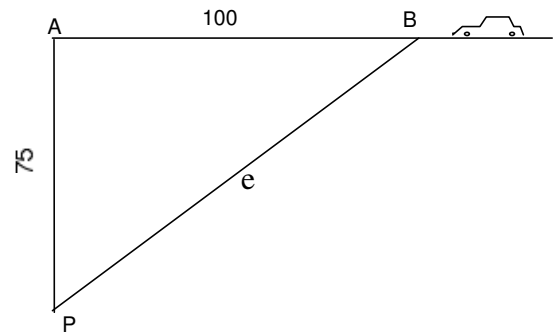
$$- \text{Donc : } \frac{dV}{dt} = 6000 \text{ cm}^3/\text{sec} = 4\pi r^2 \cdot \frac{dr}{dt} \quad \text{En isolant : } \frac{dr}{dt} = \frac{6000}{4\pi r^2} \text{ cm/sec} = \frac{1500}{\pi r^2} \text{ cm/sec.}$$

b) De même :  $V = \frac{\pi r^2 h}{3} = \frac{\pi \left(\frac{h}{4}\right)^2 h}{3} = \frac{\pi}{48} h^3$  et  $V(h) = \frac{\pi}{48} h^3$ .

$$- \frac{dV}{dt} = 6000 \text{ cm}^3/\text{sec} \quad - \frac{dV}{dh} = \frac{d\left(\frac{\pi}{48} h^3\right)}{dh} = \frac{\pi}{48} 3h^2 = \frac{\pi}{16} h^2$$

$$- \text{Donc : } \frac{dV}{dt} = 6000 \text{ cm}^3/\text{sec} = \frac{\pi}{16} h^2 \cdot \frac{dh}{dt} \quad \text{En isolant : } \frac{dh}{dt} = \frac{6000}{\left(\frac{\pi}{16} h^2\right)} \text{ cm/sec} = \frac{96000}{\pi h^2} \text{ cm/sec.}$$

- # 6 Un policier placé au point P mesure la vitesse des voitures qui se déplacent dans la direction du point A. Le policier est à 75 m du point A et la mesure se fait lorsque la voiture est à 100 m du point A, soit lorsque la voiture arrive au point B. Si la vitesse permise est de 50 km/h, quelle vitesse le policier doit-il considérer comme étant la limite de vitesse permise mesurée par son radar ?



Les variables :

- temps:  $t$  (h)
- distance séparant la voiture du point A :  $x$  (km)
- distance séparant le policier de la voiture :  $e$  (km) et  $e^2 = x^2 + 75^2$

Nous cherchons :  $\frac{de}{dt}$  la vitesse de l'automobile par rapport au policier

Taux de variation :  $\frac{de}{dt} = \frac{de}{dx} \cdot \frac{dx}{dt}$

$$- \frac{d(e^2)}{dx} = \frac{d(x^2 + 75^2)}{dx} \rightarrow 2e \frac{de}{dx} = 2x \rightarrow \frac{de}{dx} = \frac{2x}{2e} = \frac{x}{e}$$

$$- \frac{dx}{dt} = 50 \text{ km/h (vitesse permise)}$$

$$- \text{Donc } \frac{de}{dt} = \frac{x}{e} \cdot 50 \text{ et comme } x = 100 \text{ alors } e = \sqrt{100^2 + 75^2} = 125 \text{ et;}$$

$$\frac{de}{dt} = \frac{100}{125} \cdot 50 = 40 \text{ km/h}$$

En conséquence, si la vitesse du véhicule se dirigeant vers le point A et que la vitesse dans la direction du policier dépasse 40 km/h alors, il y aura une infraction au code de la route. Ce résultat n'est valide qu'aux positions respectives du policier et de la voiture situés au point P et au point B.

# 7 Une personne dont la taille est de 1,8 m s'éloigne à une vitesse de 2,2 m/s d'un réverbère situé à 9m du sol.

a) À quelle vitesse la longueur de son ombre varie-t-elle ?

b) À quelle vitesse l'extrémité de son ombre se déplace-t-elle ?

Les variables :

- distance entre la personne et le réverbère:  $x$  (m)

- distance de l'ombre :  $y$  (m)

Nous cherchons :  $\frac{dy}{dt}$  et  $\frac{d(y+x)}{dt}$

Taux de variation :  $\frac{dy}{dt} = \frac{dy}{dx} \cdot \frac{dx}{dt}$  et  $\frac{d(y+x)}{dt} = \frac{dy}{dt} + \frac{dx}{dt}$

$$- \frac{dx}{dt} = 2,2 \text{ m/sec.}$$

$$- \frac{y}{x} = \frac{1,8}{9-1,8} = \frac{1,8}{7,2} = \frac{18}{72} = \frac{9 \cdot 2}{9 \cdot 8} = \frac{1}{4}, \text{ c'est-à-dire : } y = \frac{1}{4}x, \text{ alors } \frac{dy}{dx} = \frac{1}{4}$$

$$- \text{Donc } \frac{dy}{dt} = \frac{dy}{dx} \cdot \frac{dx}{dt} = \frac{1}{4} \cdot 2,2 = 0,55 \text{ m/sec.}$$

$$- \text{De plus : } \frac{d(y+x)}{dt} = \frac{dy}{dt} + \frac{dx}{dt} = (0,55 + 2,2) = 2,75 \text{ m/sec.}$$

